

**Паспорт фонда оценочных средств
по предмету «География»**

№ п/п	Наименование оценочного средства	Четверть	Разработчик
5 класс			
1.	Практическая работа	I	"География. 5-9 классы. Программа курса. ФГОС" Плешаков А.А., Домогацких Е.М., Введенский Э.Л. Просвещение
2.	Проверочная работа	II	География. 5-9 классы. Программа курса. ФГОС" Плешаков А.А., Домогацких Е.М., Введенский Э.Л. Просвещение
3.	Проверочная работа	III	География. 5-9 классы. Программа курса. ФГОС" Плешаков А.А., Домогацких Е.М., Введенский Э.Л. Просвещение
4.	<i>Итоговая контрольная работа</i>	IV	География. 5-9 классы. Программа курса. ФГОС" Плешаков А.А., Домогацких Е.М., Введенский Э.Л. Просвещение
6 класс			
5.	Проверочная работа	I	"География. 5-9 классы. Программа курса. ФГОС" Плешаков А.А., Домогацких Е.М., Введенский Э.Л. Просвещение
6.	Проверочная работа	II	"География. 5-9 классы. Программа курса. ФГОС" Плешаков А.А., Домогацких Е.М., Введенский Э.Л. Просвещение
7.	Проверочная работа	III	"География. 5-9 классы. Программа курса. ФГОС" Плешаков А.А., Домогацких Е.М., Введенский Э.Л. Просвещение
8.	<i>Итоговая контрольная работа</i>	IV	"География. 5-9 классы. Программа курса. ФГОС" Плешаков А.А., Домогацких Е.М., Введенский Э.Л. Просвещение
7 класс			
9.	Проверочная работа	I	"География. 5-9 классы. Программа курса. ФГОС" Плешаков А.А., Домогацких Е.М., Введенский Э.Л. Просвещение

10.	Проверочная работа	II	"География. 5-9 классы. Программа курса. ФГОС" Плешаков А.А., Домогацких Е.М., Введенский Э.Л. Просвещение
11.	Проверочная работа)	III	"География. 5-9 классы. Программа курса. ФГОС" Плешаков А.А., Домогацких Е.М., Введенский Э.Л. Просвещение
12.	Итоговая контрольная работа	IV	"География. 5-9 классы. Программа курса. ФГОС" Плешаков А.А., Домогацких Е.М., Введенский Э.Л. Просвещение
8 класс			
13	Проверочная работа	I	"География. 5-9 классы. Программа курса. ФГОС" Плешаков А.А., Домогацких Е.М., Введенский Э.Л. Просвещение
14	Проверочная работа	II	"География. 5-9 классы. Программа курса. ФГОС" Плешаков А.А., Домогацких Е.М., Введенский Э.Л. Просвещение
15	Проверочная работа	III	"География. 5-9 классы. Программа курса. ФГОС" Плешаков А.А., Домогацких Е.М., Введенский Э.Л. Просвещение
16	Итоговая контрольная работа	IV	"География. 5-9 классы. Программа курса. ФГОС" Плешаков А.А., Домогацких Е.М., Введенский Э.Л. Просвещение
9 класс			
17	Проверочная работа	I	"География. 5-9 классы. Программа курса. ФГОС" Плешаков А.А., Домогацких Е.М., Введенский Э.Л. Просвещение
18	Проверочная работа	II	"География. 5-9 классы. Программа курса. ФГОС" Плешаков А.А., Домогацких Е.М., Введенский Э.Л. Просвещение
19	Проверочная работа	III	"География. 5-9 классы. Программа курса. ФГОС" Плешаков А.А., Домогацких Е.М., Введенский Э.Л. Просвещение
20	Итоговая контрольная работа	IV	"География. 5-9 классы. Программа курса. ФГОС" Плешаков А.А., Домогацких Е.М., Введенский Э.Л. Просвещение

Система оценивания по географии

1. Задания с выбором ответа считаются выполненными верно, если выбранный учащимся номер ответа совпадает с эталоном.

2. Задание с кратким ответом считается выполненным, если записанный ответ совпадает с эталоном.

Для оценивания результатов выполнения работ учащимися наряду с традиционной отметкой «2», «3», «4» и «5» применяется и ещё один количественный показатель – общий балл, который формируется путём подсчета общего количества баллов, полученных учащимися за выполнение каждой части работы. Каждое задание части А оценивается в 1 балл, В – 2 балла, С – 3 балла. Таким образом, за работу обучающийся может набрать максимальное количество баллов – 22. С помощью общего балла, расширяющего традиционную шкалу оценивания, во-первых, проводится более тонкая дифференциация подготовки, во-вторых, отметка несёт больше информации. Общий балл нагляден, легко интерпретируется учителем, учеником, родителями. Оценивание работ может дифференцироваться в зависимости от уровня учебных возможностей класса.

Шкала перевода набранных баллов в отметку:

0-9 баллов – «2»;

10-12 баллов – «3»;

14-17 баллов – «4»;

18-22 баллов – «5».

7. Обобщенный план варианта к измерительным материалам для проведения контрольной работы

Тип задания:

ВО – задания с выбором ответа, КО – задания с кратким ответом, РО – задания с развернутым ответом.

Уровень:

П – повышенный уровень, Б – базовый уровень

Практическая работа №1

«Измерение расстояний по карте с помощью разных видов масштаба»

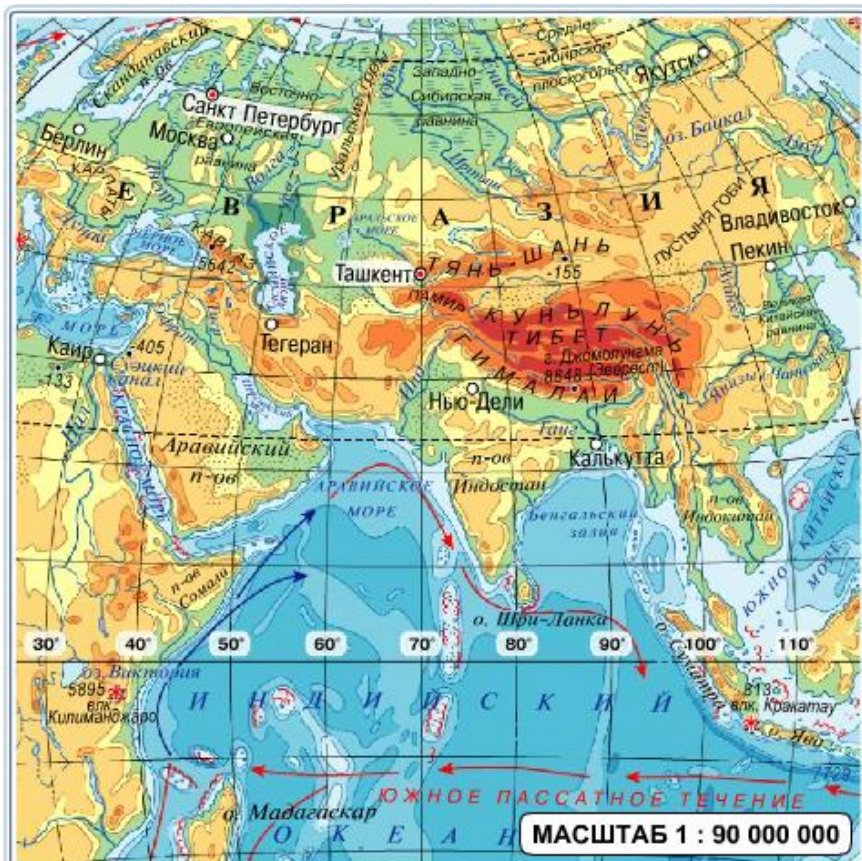
Цель работы:

- научиться определять расстояние между различными объектами на карте с помощью масштаба карты,
- научиться определять протяжённость объектов на карте с помощью масштаба карты.

Оборудование: атлас, линейка, циркуль-измеритель

Описание работы:

1. С помощью линейки и численного масштаба определите по карте расстояние между городами Санкт-Петербургом и Ташкентом.
2. С помощью линейки и именованного масштаба определите по карте протяжённость Большого Кавказа.
3. С помощью линейного масштаба и циркуля-измерителя определите по карте длину железной дороги.



Практическая работа №2

«Условные знаки плана и карты»

Цель работы:

Закрепить навыки работы с условными знаками плана и карты.

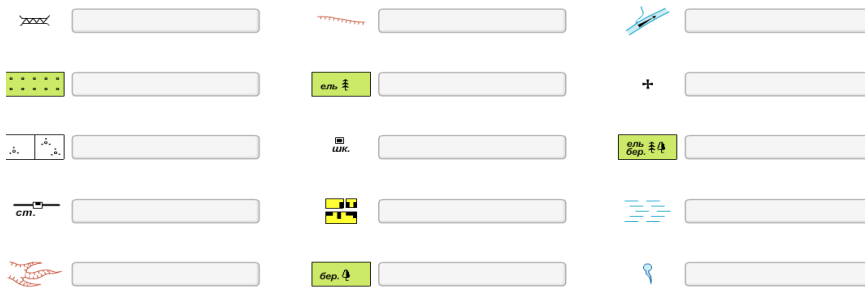
Оборудование: атлас, план местности, цветные карандаши

Описание работы:

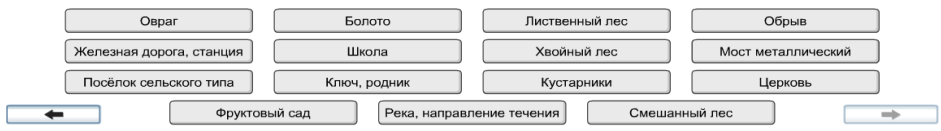
1. Подпишите условные знаки плана местности.
2. Подпишите условные знаки карты.
3. На плане местности выделите красным цветом линейные условные знаки плана местности, синим цветом — площадные, зелёным цветом — точечные.

Условные знаки плана и карты

Задание 1. Подпишите условные знаки **плана местности**. Для этого подставьте названия условных знаков к их изображениям.



Готово



Условные знаки плана и карты

Задание 2. Подпишите условные знаки **карты**. Для этого подставьте названия условных знаков к их изображениям.



Готово



Практическая работа №3

«Определение высот и глубин земной поверхности по карте»

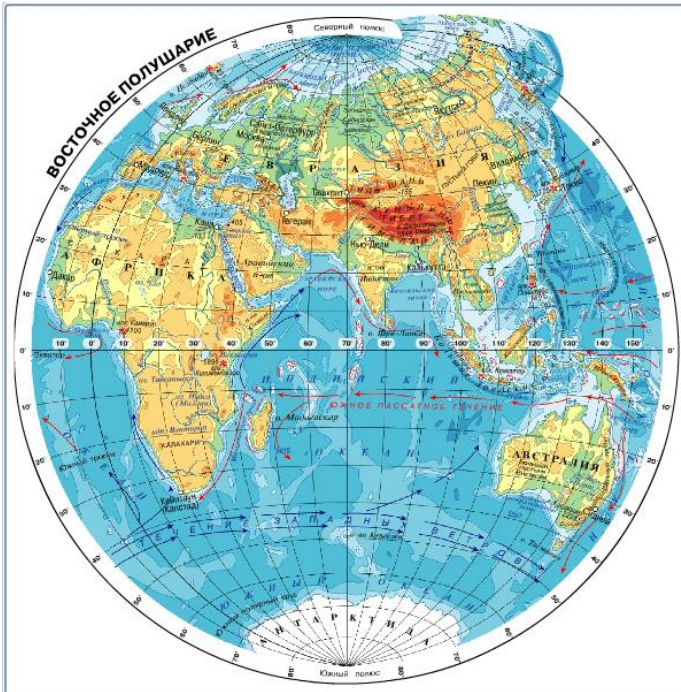
Цель работы:

Научиться определять высоты и глубины земной поверхности по карте.

Оборудование: атлас

Описание работы:

1. По карте с помощью отметок высот определите высоту географических объектов: вулкана Килиманджаро, горы Джомолунгмы, вулкана Везувий, горы Косцюшко, вулкана Ключевской Сопки.
2. По карте с помощью шкалы высот и глубин определите преобладающие высоты пустыни Гоби, Западно-Сибирской равнины, Тибета.



Практическая работа №4

«Определение азимута на плане местности»

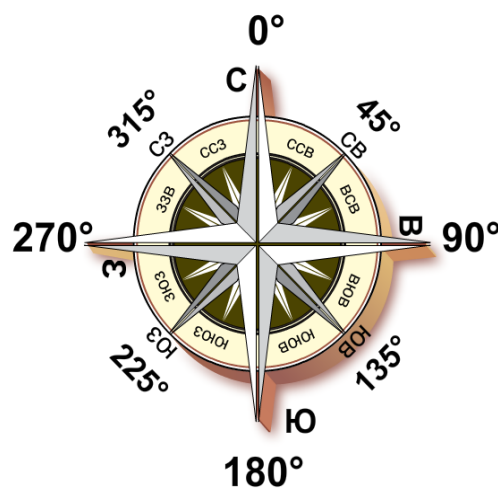

Цели работы:

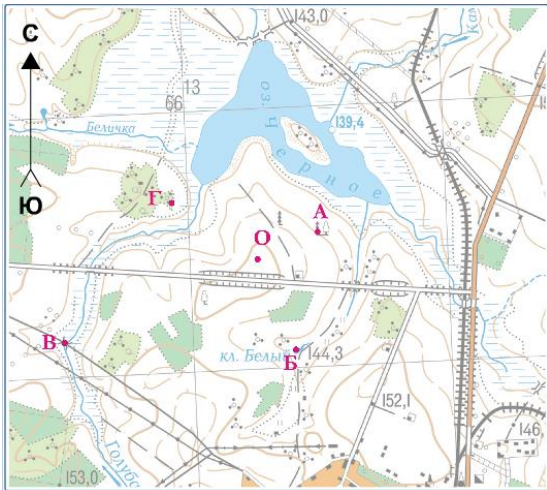
- закрепить понятие азимута;
- вспомнить строение компаса;
- научиться определять азимут на плане местности

Оборудование: компас, план местности, линейка

Описание работы:

1. Повторите понятие азимута.
2. Повторите устройство компаса.
3. По плану местности определите азимуты объектов, обозначенные буквами А-Г, от исходной точки О.





**Практические работы по географии 6 класс
ПРАКЧЕСКАЯ РАБОТА №1**

Наблюдения за сезонными изменениями в живой природе

Цель: рассмотреть сезонные изменения в жизни разных животных и растений; изучить приспособленности к периодическим изменениям среды, которые позволяют животным выжить.

Оборудование: информационные листы

Ход урока:

Задание. *Заполните таблицу.*

Приспособленность организмов.

<i>Тип адаптации</i>	<i>Признаки</i>	<i>Примеры организмов</i>

Вывод: (каково значение приспособлений?)

Информационный лист.

1 группа

ПРИСПОСОБЛЕННОСТЬ ОРГАНИЗМОВ К СРЕДЕ ОБИТАНИЯ, В ЗАВИСИМОСТИ ОТ СЕЗОНОВ.

Задание. Заполните пустые графы в таблице Рабочего листа «Адаптации организмов»,

выпишите признаки и примеры сезонных адаптаций только морфологического типа.

Морфологические адаптации – это изменения формы тела, окраски, размеров.

- у северных животных увеличены размеры печени и сердца (мохноногий канюк)
- зимой у птиц – оперение на цевке ног (Тупик)
- обтекаемая форма тела у рыб и птиц
- копыта широкие, ложкообразные, могут раздвигаться; волос заполнен воздухом; рога имеются у самцов и самок (травяная лягушка)
- совместное гнездование гусей и хищных птиц (гусь-гуменник и канюк)
- перепонки между пальцами у животных ведущих водный образ жизни
- густой шерстный покров, оперение, белая окраска зимой у северных обитателей.(северный олень)
- плоское тело у придонных рыб (серый тюлень)
- стелящаяся и подушкообразная форма у растений в северных широтах и высокогорных районах (вереск)



Серый тюлень




Куропатка




Тупик

Лягушка






Северный олень



Камбала

Вереск

Мохноногий канюк

	<p>Горноста́й</p>
	<p>Зяяц беляк</p>
	

Информационный лист.

2 группа

ПРИСПОСОБЛЕННОСТЬ ОРГАНИЗМОВ К СРЕДЕ ОБИТАНИЯ, В ЗАВИСИМОСТИ ОТ СЕЗОНОВ

Задание. Заполните пустые графы в таблице «Адаптации организмов», выпишите признаки и примеры сезонных адаптаций только физиологического типа.

Физиологические адаптации: приспособленность процессов жизнедеятельности к условиям обитания, направленная на сохранение постоянства внутренней среды организма – гомеостаза
 -накопление жира пустынными животными перед наступлением засушливого сезона (полярная сова);

-способность морских зверей подолгу находиться под водой благодаря дыханию (легкие крупнее, в крови больше гемоглобина, запас кислорода в миоглобине);

-смена пищи в зависимости от сезона (летом – листья, цветки, ягоды /вороника, брусника, голубика, арктоус/, зимой – веточный корм, хвоя сосны, хвоя ели, можжевельник, береза, почки и сережки ольхи) (верблюды);

-расположение вен вблизи артерий “чудесное сплетение” (обогрев венозной крови в лапах)

(обыкновенный тюлень);

-изменение обмена веществ (способность зимой обходиться без пищи до 40 дней, используя жировой слой) (волк);

-железы, избавляющие от избытка солей у рептилий и птиц, обитающих у моря (рябчик);

-восковой налёт на листьях брусники, голубики;

-для сохранения влаги листья багульника, вереска свёрнуты в трубочку;

-состояние частичного или полного анабиоза (лягушка).



Волк



Тюлень



Полярная сова

Брусника




Голубика

Рябчик

Лягушка

Верблюд



ПРИЛОЖЕНИЕ №2

Информационный материал

Морфологические адаптации. Эти адаптации связаны с особенностями строения тела. Причем, как и все остальные типы адаптации, морфологические приспособления с точки зрения эволюционной значимости подразделяются на общие, которые затрагивают обычно крупные таксоны (отряды, классы, типы), и специальные, связанные с более узкими условиями существования (виды, группы видов). Например, возникновение крыла у птиц — это крупнейшее изменение, которое дало возможность живым организмам завоевать воздушное пространство. Впоследствии на его основе возникали вторичные и третичные адаптации, например особенности строения крыла, связанные с типом полета. Сравните брющий полет буревестника и маневренный полет колибри, позволяющий птице зависать в воздухе в одной точке и давать задний ход.

У Дарвина любимым примером приспособлений служил дятел. В «Происхождении видов путем естественного отбора» Дарвин писал: «Можно ли привести более разительный пример приспособления, чем дятел, лазящий по стволам деревьев и вылавливающий насекомых в трещинах коры?»

Классическим примером приспособлений служит строение ноги у разных видов птиц. Ярким примером адаптации к разным типам питания является разнообразная форма птичьих клювов. Плоская форма тела придонных рыб и торпедообразное тело акул, густой шерстный покров у северных млекопитающих, гибкое тело у норных животных — это примеры морфологических адаптации у животных. Подобные формы адаптации существуют и в растительном царстве. В высокогорных районах и в тундре большинство растений имеют стелющиеся и подушковидные формы, которые устойчивы к сильным ветрам, зимой легко укрываются снегом и не повреждаются в сильные морозы.

Физиологические адаптации. Эти адаптации связаны с перестройкой обмена веществ. Без

них невозможно поддержание гомеостаза в постоянно меняющихся условиях внешней среды. Человек не может долго обходиться без пресной воды из-за особенностей своего солевого обмена, но птицы и рептилии, проводящие большую часть жизни в морских просторах и пьющие морскую воду, приобрели специальные железы, которые позволяют им быстро избавляться от избытка солей. Многие пустынные животные перед наступлением засушливого сезона накапливают много жира: при его окислении образуется большое количество воды.

Поведенческие адаптации. Особый тип поведения в тех или иных условиях имеет очень большое значение для выживания в борьбе за существование. Затаивание или отпугивающее поведение при приближении врага, запасание корма на неблагоприятный период года, спячка животных и сезонные миграции, позволяющие пережить холодный или засушливый период — это далеко не полный перечень разнообразных типов поведения, возникающих в ходе эволюции как приспособления к конкретным условиям существования.

Следует отметить, что многие виды адаптации формируются параллельно. Например, защитное действие покровительственной или предупреждающей окраски значительно повышается при сочетании ее с соответствующим поведением. Животные, имеющие покровительственную окраску, в минуту опасности замирают. Предостерегающая окраска, наоборот, сочетается с демонстративным поведением, отпугивающим хищника.

Особую важность имеют поведенческие адаптации, связанные с продолжением рода. Брачное поведение, выбор партнера, образование семьи, забота о потомстве - эти типы поведения являются врожденными и видоспецифичными, т. е. у каждого вида существует своя программа полового и детско-родительского поведения.

7 класс.

ПРАКТИЧЕСКАЯ РАБОТА № 1 «Определение по картам и глобусу расстояния между точками в градусах и километрах, прокладка по карте маршрута путешествий».
(письменно)

Цель работы: формирование умений определять расстояние между двумя точками в градусах и километрах.

1. Определите протяженность Африки в километрах с севера на юг по 20° в. д. и с запада на восток по экватору.

Решение:

1) $32^{\circ} + 35'' = 67^{\circ}$, в $1^{\circ} \sim 111$ км,

2) $111 * 67^{\circ} = 7437$ (км)

1) $43^{\circ} - 9'' = 34^{\circ}$, в $1^{\circ} \sim 111$ км

2) $111 * 34 = 3774$ км

Ответ: протяженность Африки с севера на юг по 20° в. д. 7437 км; с запада на восток по экватору 3774 км.

2. Определите протяженность Южной Америки по экватору и с севера на юг по 70° з. д.

Решение

1). $81^{\circ} - 53^{\circ} = 28^{\circ}$, в $1^{\circ} \sim 111$ км

$$2) 111 \cdot 28 = 3108 \text{ км}$$

$$1) 13^\circ + 56'' = 69^\circ, \text{ в } 1'' \sim 111 \text{ км}$$

$$2) 111 \cdot 69'' = 7659 \text{ км}$$

Ответ: Протяженность Южной Америки по экватору 3108 км и с севера на юг по $70''$ з. д. 7659 км

Самостоятельно:

Определить протяженность Южной Америки с запада на восток по 10° с. ш. и с севера на юг по 60° з. д.

Решение:

$$1) 77'' - 61'' = 16'', \text{ в } 1'' \sim 111 \text{ км}$$

$$2). 111 \cdot 16'' = 1776 \text{ км}$$

$$1). 8^\circ + 38'' = 46^\circ, \text{ в } 1'' \sim 111 \text{ км}$$

$$2) 111 \cdot 46'' = 5106 \text{ км}$$

Ответ: Протяженность Южной Америки с запада на восток по 10° с. ш. 1776 км и с севера на юг по $60''$ з. д. 5106 км.

ПРАКТИЧЕСКАЯ РАБОТА № 2 «Определение координат крайних точек, протяженность, определение географического положения».
(письменно)

Цель работы: выявление особенностей географического положения материка: развитие умений комплексного использования физической и контурной карт.

1. Африка относительно экватора расположена в Северном и Южном полушариях. Относительно меридиана большая часть материка находится в восточном полушарии. Северные и южные тропики пересекают Африку.

2..Крайние точки.

а). Северная - м. Рас - Энгела - 37 " с.ш., 10 ° в.д

б). Южная - м. Игольный - 35 " ю.ш., 20° в.д

в). Западная - м. Альмади - 15 " ели , 18 ° в.д

г). Восточная - м. Рас - Хафун - 10' с.ш., 51 в.д

(д). Определить протяженность Африки с севера на юг по 20° в.д и с запада на восток по 10° с ш.

1.

$$1). 33^{\circ} + 34^{\circ} = 67^{\circ}, 111^{\circ} * 111 \text{ км}. 2) 111 * 67^{\circ} = 7437$$

км

2

$$1) 51^{\circ} + 14" = 65^{\circ}, 111 \sim 111 \text{ км}$$

2). $111 * 65 = 7215 \text{ км}$ Ответ: 7437 км протяженность Африки с севера на юг по 20° в.д и 7215 км с запада на восток по 10° с.ш.

3. Африка расположена в Субтропическом, субэкваториальном, экваториальном, тропическом поясах.

4. Африку омывает Атлантический, Индийский океаны, а так же Средиземное и Красное моря.

5. Африка соединяется Суэтским перешейком с Европой.

ПРАКТИЧЕСКАЯ РАБОТА № 3 «Описание природных условий населения, хозяйственной деятельности одной из стран Африки».

(письменно)

Цель работы: формирование умений, используя различные карты атласа, составить краткую характеристику природы, населения и его хозяйственной деятельности.

План описания:

1. Определить ареал распространения.
2. Рельеф и полезные ископаемые.
3. Климат и внутренние воды (температура января, июля, осадки).
4. Почвы, растительный и животный мир
5. Численность населения.
6. Хозяйственная деятельность и особенности быта.
7. Влияние хозяйственной деятельности населения на окружающую природную среду.

1 вариант - арабы.

1. Арабские народы проживают в Африке на севере материка, вдоль Красного, Средиземного морей до берегов Атлантического океана.
2. Арабы проживают в Ливийской пустыне, на низменных участках береговой линии материка, в горах Атлас, в нагорьях Ахагар, Тибести, на большей территории Сахары. Территория богата полезными ископаемыми: нефть, газ, железные руды, фосфориты, полиметаллические руды, марганцевые руды.
3. Арабы проживают в тропическом климатическом поясе: температура июля +32 С, температура января +16 С, количество осадков от 250 до 100 и менее мм. Территория проживания арабов не богата внутренними водами, только в восточной части протекает река Нил, озер нет.
4. Почвы: пусгынные, тропических и субтропических поясов; каштановые сухих степей; коричневые и серо-коричневые ксерофитных лесов и кустарниковых степей, встречаются солончаки и солонцы. Животные: антилопа каина, газель, вараны, верблюды, фламинго, лисица-фенек, леопарды. Растительность скудная, а местами её нет совсем.
5. Плотность населения: на побережье Средиземного моря от 100 человек до 10 человек на 1 кв. км, далее менее 1 чел. на 1 кв. км, имеются территории незаселённые людьми.

6. Вдоль побережья население занимается рыболовством, имеются крупные морские порты, обрабатываются земли, выращивают цитрусовые, вдоль устья реки Нил - хлопчатник, крупные районы распространения финиковых пальм, имеются пастбища (овцы, козы), очаги обрабатываемых земель, а также земли малоиспользуемые и неиспользуемые.
7. Природа сильно пострадала от хозяйственной деятельности человека. Одна из трудностей борьба с движущимися песками. Разработан проект создания «Зелёного пояса»

2 вариант - Банту.

1. Народы банту проживают на юге материка, преимущественно в ЮАР, Мозамбике, Заире. Анголе.
2. Большая часть территории равнинное плато, которое постепенно ступенями повышается к югу и востоку, сменяясь горами: Капские, Драконовы.
Полезные ископаемые: одно из первых мест в мире по запасам и добыче алмазов, золота, платины, урановых, медных, железных руд; имеются также кобальтовые руды, асбест, хромовые руды, оловянные руды.
3. Народы банту проживают на территории тропического и субэкваториального климатического поясов: средняя температура июля от +8 до + 16 С, средняя температура, января от +24 С до + 16 С, осадков от 1000 до 500 мм в год, местами до 2000 мм. Территория богата внутренними водами: реки Лимпопо, Замбези, водопад Виктория, озёра Ньяса, Танганьика.
4. Почвы: коричнево-красные ферраллигизированные ксерофитных лесов и кустарников, коричневые и серо-коричневые ксерофитных лесов и кустарниковых степей, красно-бурых саванн.
Растительность саванн.
Животный мир: антилопы гну, зебры, жирафы, слоны, буйволы, носороги, львы, леопарды.
5. Очагами плотность населения от 10 до 100 человек на 1 кв. км до менее 1 человека на 1 кв. км.
6. Народы банту заняты фермерским хозяйством, выращивают кукурузу, пшеницу, бобовые, сахарный тростник, цитрусовые, хлопчатник, разводят овец и крупный рогатый скот, много фабрик и заводов, быстро развивается промышленность, народ занимается охотой и рыболовством.
7. Число диких животных заметно сократилось и многие виды почти исчезли, особенно сократилось количество травоядных. Созданы заповедники и национальные парки. (Крупный национальный парк -Кригер).

ПРАКТИЧЕСКИЕ РАБОТЫ 8 КЛАСС

Введение

1. Ознакомление с картами атласа и решение простейших задач.

Практическая работа № 1.

Ознакомление с картами атласа и решение простейших задач.

Ход работы:

Используя физическую карту России заполните таблицу:

Вариант 1.

Географический объект	Географические координаты	Направление от Москвы	Расстояние от Москвы (км)	Высота над уровнем моря (м)
Санкт-Петербург				
г. Народная				
Астрахань				
Смоленск				
влк. Ключевская Сопка				

Вариант 2.

Географический объект	Географические координаты	Направление от Москвы	Расстояние от Москвы (км)	Высота над уровнем моря (м)
Калининград				
г. Эльбрус				

Воркута				
Челябинск				
Волгоград				

Будьте внимательны!

Наиболее часто встречаемые ошибки:

1. При определении географических координат учащиеся путают широту и долготу;
2. При определении направлений не забудьте, что направление на север и юг указывают меридианы, а на запад и восток - параллели;
3. При определении абсолютной высоты объекта необходимо указать конкретную высоту, а не интервал между горизонталями.

Практическая работа № 2. Географическое положение России

2. **Нанесение на контурную карту границ России, приграничных стран, морей, омывающих берега России, крайних точек России и определение их географических координат.**

Нанесение на контурную карту характерных черт географического положения России.

Ход работы:

На контурной карте России:

1. Красным цветом обозначьте государственную границу России;
2. Определите протяжённость России с севера на юг по 100° в.д. и с запада на восток по 60° с.ш. (до залива Шелихова);
3. Подпишите названия приграничных с Россией государств;
4. Подпишите названия морей и океанов, омывающие берега России (включая Каспийское море);
5. Обозначьте крайние точки России, укажите их названия и определите их географические координаты.

3. **Определение местного и поясного времени.**

Практическая работа № 3.

Решение задач по определению местного и поясного времени.

Ход работы:

Вариант 1.

1) Определите местное время в городах Санкт-Петербург, Владивосток, Тула, Новосибирск и Калининград, если в Москве 12 часов 00 минут. Все расчёты запишите в тетрадь.

2) Определите поясное время в Омске, Москве, Норильске, Анадыре и Екатеринбурге, если в Красноярске 19 часов 15 минут.

Вариант 2.

1) Определите местное время в городах Калининград, Уэлен, Екатеринбург, Москва, Иркутск, если в Омске 18 часов 00 минут. Все расчёты запишите в тетрадь.

2) Определите поясное время в Чите, Мурманске, Якутске, Самаре и Петропавловске-Камчатском, если в Красноярске 10 часов 20 минут

Для определения местного времени необходимо:

1. Определить меридиан пункта, время которого нам известно;
2. Определить меридиан пункта, время которого необходимо найти;
3. Определить расстояние в градусах между двумя пунктами;
4. Определить разницу во времени (в минутах) и при необходимости перевести в часы и минуты;
5. Определить местное время искомого пункта: для этого, если пункт, время которого необходимо определить, находится к востоку о пункта, время которого нам известно, то разница во времени прибавляется, а если к западу - то вычитается.

Например:

Нам известно, что в Самаре 12 часов 00 минут. Необходимо определить местное время в Магадане.

1. меридиан Самары - 51° в.д.;
2. меридиан Магадана - 151° в.д.;
3. расстояние в градусах: $151^{\circ} - 51^{\circ} = 100^{\circ}$
4. разница во времени: $100^{\circ} \times 4' = 400' = 6$ часов 40 минут;
5. местное время в Магадане: 12 часов 00 минут + 6 часов 40 минут = 18 часов 40 минут .

Рельеф, геологическое строение и полезные ископаемые России

4. Обозначение на контурной карте крупнейших гор и равнин России.

Практическая работа № 4.

Нанесение на контурную карту важнейших форм рельефа России.

Ход работы:

Используя физическую карту атласа (стр. 16 - 17), подпишите на контурной карте России следующие объекты:

1. равнины: Восточно-Европейскую (Русскую), Среднерусскую возвышенность, Приволжскую возвышенность, Прикаспийскую низменность, Западно-Сибирскую, Среднесибирское плоскогорье;
2. горы - Хибинские, Уральские, Большой Кавказ, Алтай, Саяны, Сихотэ-Алинь, Верхоянский хребет, хребет Черского, Алданское нагорье, Чукотское нагорье, Срединный хребет;
3. вершины - г. Народная, г. Белуха, влк. Ключевская Сопка (чёрным цветом обозначьте их абсолютную высоту);
4. красными точками обозначьте и подпишите наивысшую точку России - г. Эльбрус и низшую точку - урез воды Каспийского моря; красным цветом обозначьте их абсолютную высоту.

ПРАКТИЧЕСКИЕ РАБОТЫ 9 КЛАСС

Географическое положение России

1. Определение по картам особенностей экономико-географического положения России.

Практическая работа № 1.

Определение по картам особенностей экономико-географического положения России.

Ход работы:

На контурной карте России:

1. Красным цветом обозначьте государственную границу Российской Федерации;
2. Подпишите названия государств, имеющих с Россией сухопутные и морские границы;
3. Подпишите названия морей и океанов, омывающих берега России;
4. Зелёным цветом обозначьте границу между Европой и Азией;
5. Синим цветом обозначьте Северный Полярный круг, а оранжевым - 50° северной широты;
6. Жёлтым цветом заштрихуйте территорию соседних с Россией стран - членом СНГ;
7. Синим цветом заштрихуйте территорию соседних с Россией стран - членом НАТО;
8. Красными кружками обозначьте "горячие точки" на территории СНГ и подпишите их названия.

Природные ресурсы России

2. Нанесение на контурную карту основных видов минеральных и неминеральных ресурсов России.

Практическая работа № 2.

Нанесение на контурную карту основных видов минеральных и неминеральных ресурсов России.

Ход работы:

1. На контурной карте России обозначьте условными знаками и подпишите названия важнейших месторождений минерального сырья:
 - нефти - Альметьевск (Ромашкинское), Грозный (Урус-Мартан), Нижневартовск (Самотлор), Оха, Самара (Мухановское), Сургут, Туймазы, Усинск;
 - природного газа - Астрахань, Войвож, Оренбург, Саратов, Ставрополь, Уренгой, Ямбург;
 - каменного угля - Новокузнецк и Кемерово (Кузбасс), Воркута (Печорский бассейн), Шахты (Донбасс), Черемхово (Иркутский бассейн), Нерюнгри (Южно-Якутский бассейн);

- бурого угля - Назарово и Ирша-Бородинское (Канско-Ачинский бассейн), Тула (Подмосковный бассейн);
 - железных руд - КМА, Качканар, Магнитогорск, Костомукша, Приангарье (Коршуновское);
 - алюминиевых руд - Бокситогорск, Сулея, Хибиньы;
 - медных руд - Гай, Красноуральск, Кыштым, Норильск, Ревда, Сибай, Удокан;
 - никелевых руд - Норильск, Никель, Верхний Уфалей и Реж;
 - полиметаллических руд - Дальнегорск, Забайкалье, Алтай (Орловское), Садон, Салаир;
 - оловянных руд - Верхоянск, Депутатский, Кавалерово, Певек, Шерловая Гора, Эсэ-Хайя;
 - золота - Алдан, Бодайбо, Золотая Гора, Омсукчан, Усть-Нера;
 - поваренной соли - Баскунчак, Эльтон;
 - калийных солей - Соликамск и Березники;
 - фосфоритов - Егорьевск, Брянск, Кингисепп, Рудничный;
 - апатитов - Хибиньы;
 - серы - Самара;
 - асбеста - Асбест, Ак-Довурак;
 - янтаря - Янтарный;
 - алмазов - Мирный, Удачный, Айхал, Эбеляхское.
2. Зелёным цветом заштрихуйте лесоизбыточные регионы России, коричневым цветом - регионы, обеспеченные почвенными ресурсами, условными знаками обозначьте районы, богатые гидроэнергоресурсами, геотермальными и рекреационными ресурсами.

Население России

3. **Обозначение на контурной карте республик в составе Российской Федерации и их столиц.**

Практическая работа № 3.

Нанесение на контурную карту республик России и их столиц.

Ход работы:

На контурной политико-административной карте России:

1. красным цветом обозначьте государственную границу Российской Федерации;
2. зелёным цветом обозначьте границы республик, входящих в состав Российской Федерации и подпишите их названия;

3. подпишите названия столиц республик Российской Федерации.
4. **Построение картосхемы основной зоны размещения населения России и обозначение на карте городов - миллионеров.**

Практическая работа № 4.

Построение картосхемы основной зоны размещения населения России и обозначение на карте городов - миллионеров.

Ход работы:

Используя карты атласа и справочную литературу, на контурной карте России выполните следующее задание:

1. Обозначьте государственную границу России;
2. Обозначьте границы экономических районов России;
3. Подпишите названия городов-миллионеров России;
4. Обозначьте основную зону расселения населения России, заштриховав "треугольник" Санкт-Петербург - Ростов-на-Дону - Новосибирск;
5. Сделайте вывод о размещении населения России.
5. **Составление схемы и объяснение причин миграций населения России в прошлом и в настоящем.**

